

Matthias Behandl 2A



Wie viele Quadrate siehst du im Noten-
Ständer?

Wie viele Formen siehst du insgesamt?
Zähle alle Formen die du siehst.

Wie viele Reihen von Quadraten sind
es in Wirklichkeit?

Welche Größe hat das Instrument
wirklich?

Wie viele Winkeln siehst du?


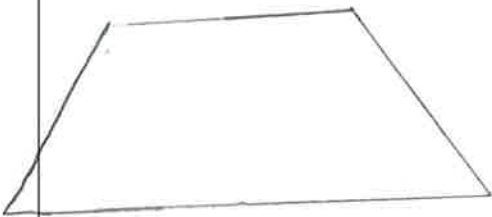

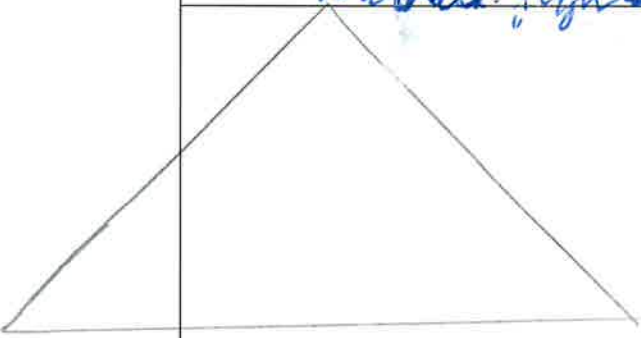
Wo wird dieses Instrument
hergestellt?

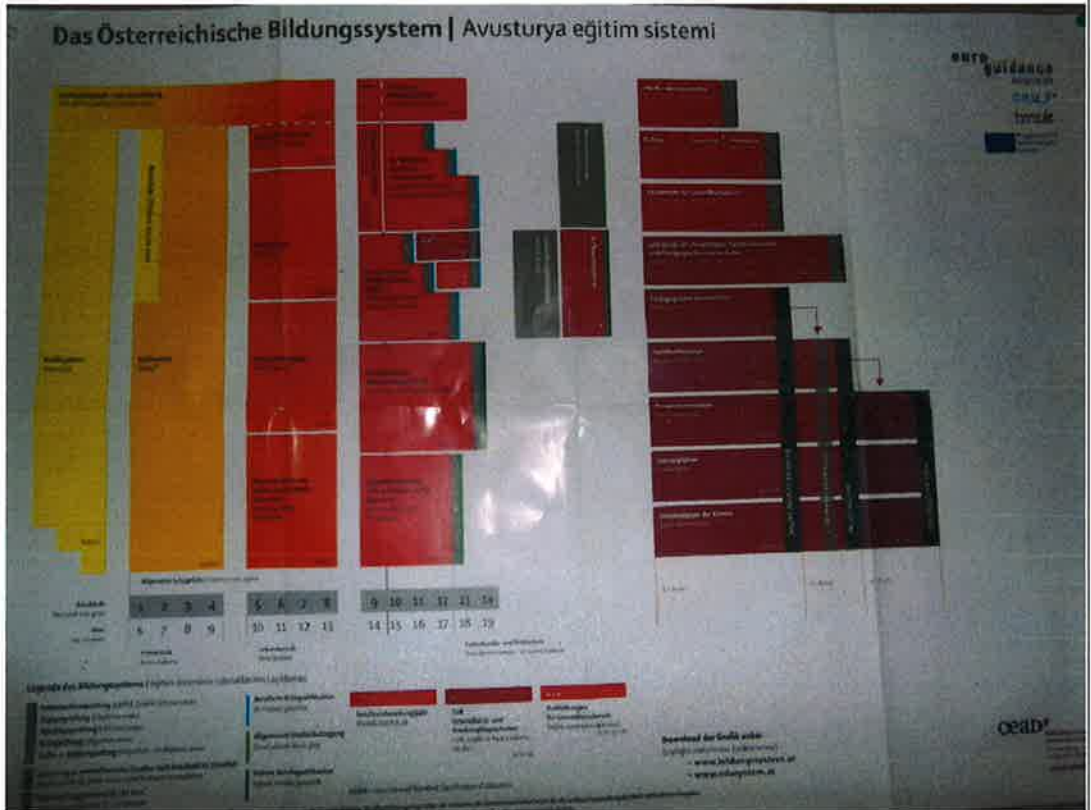
Matheyes Projekt

Name:



Welche geometrische Figuren hast du
in der Landschaft gezeichnet?







- a) Wie viele Rechtecke kannst du auf diesem Bild erkennen.
- b) Zähle die gelben, orangenen, hellroten, dunkelroten, grauen und schwarzen.
- c) Multipliziere die gelben mit oder dunkelrot schwarz mit orange grau mit hellrot.
- d) Addiere die summen.



Wie viele Form findest du in dem Bild?

Was für Formen sind im Bild zusehen?

Ich sehe 11 Kreise und 12 Rechtecke.



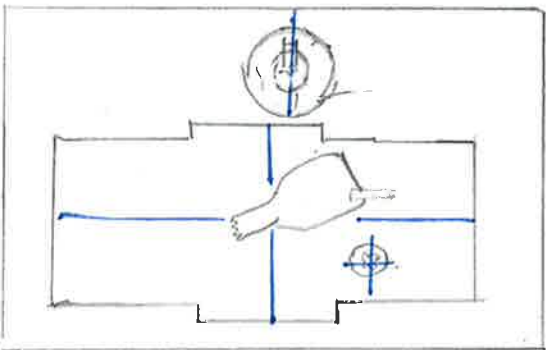


Finde die beiden weißen Tasten in der Mitte,
und markiere sie.

Finde das rechteckige Feld mit 4 Tastenbreite und 10 Tastenlänge

Christoph

Welche Formen sind in dem Bild und wie viele Symmetriedrehachsen haben sie.







Wie viele Symmetrien siehst du im Bild?

Wie viele Kreise gibt es da?

Wie viele Rechtecke siehst du?

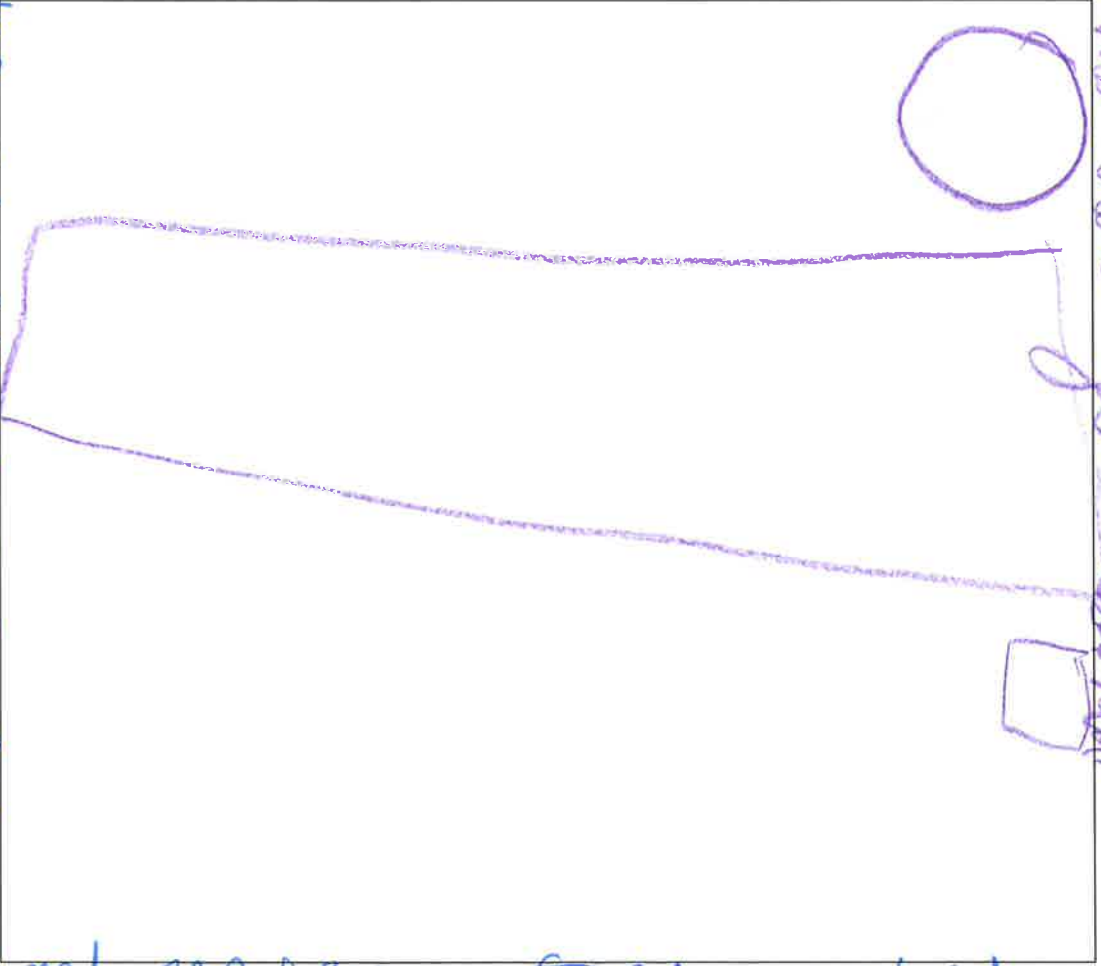
Ich sehe 2 Rechtecke und 2 Kreise.





Quadrat, Rechteck
Wie viele Symmetriachsen besitzt
der sehen?


Wie viele Kugel nicht sein?



Wie viele Kugel nicht sein?
Wie viele Kugel nicht sein?
Wie viele Kugel nicht sein?

Wie viele Kugel nicht sein?
Wie viele Kugel nicht sein?
Wie viele Kugel nicht sein?

Frage b) Welche Form hat diese Tafel genau?

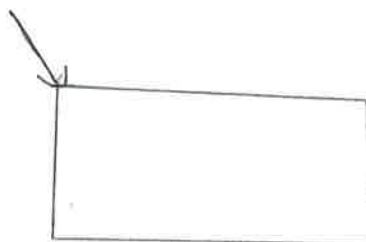


Ich habe mir die Tafel ausgesucht weil man nicht bestimmt die einzelnen Teile sagen. Auf den ersten Blick denkt man das es zwei sind aber man muss genauer hinschauen.

Antwort b) Rechteck!

Wie viele Formen siehst du bei dem Bild? ← Frage A

Aa1) 9 Formen!





Wie viele geometrische Formen kannst du erkennen?





Wie viele Zahlen
siest du?

0 2 4 6 8 10 12 14 16 18 20 22 24 26 28 30 32 34 36 38 40 42 44 46 48 50 52 54 56 58 60 62 64 66 68 70 72 74 76 78 80 82 84 86 88 90 92 94 96 98 100

7 13

15

9

21

17

3

11

19

5

1

13

17

21

25

29

33

37

41

45

49

53

57

61

65

69

73

77

81

85

89

93

97

101



Hier Hier



Frage:
↳ Was für eine Form hat der Spiegel?

Antwort: Rechteck

Frage:
gibt es auf dem Fliesen parallele?

Antwort: ja es gibt parallele

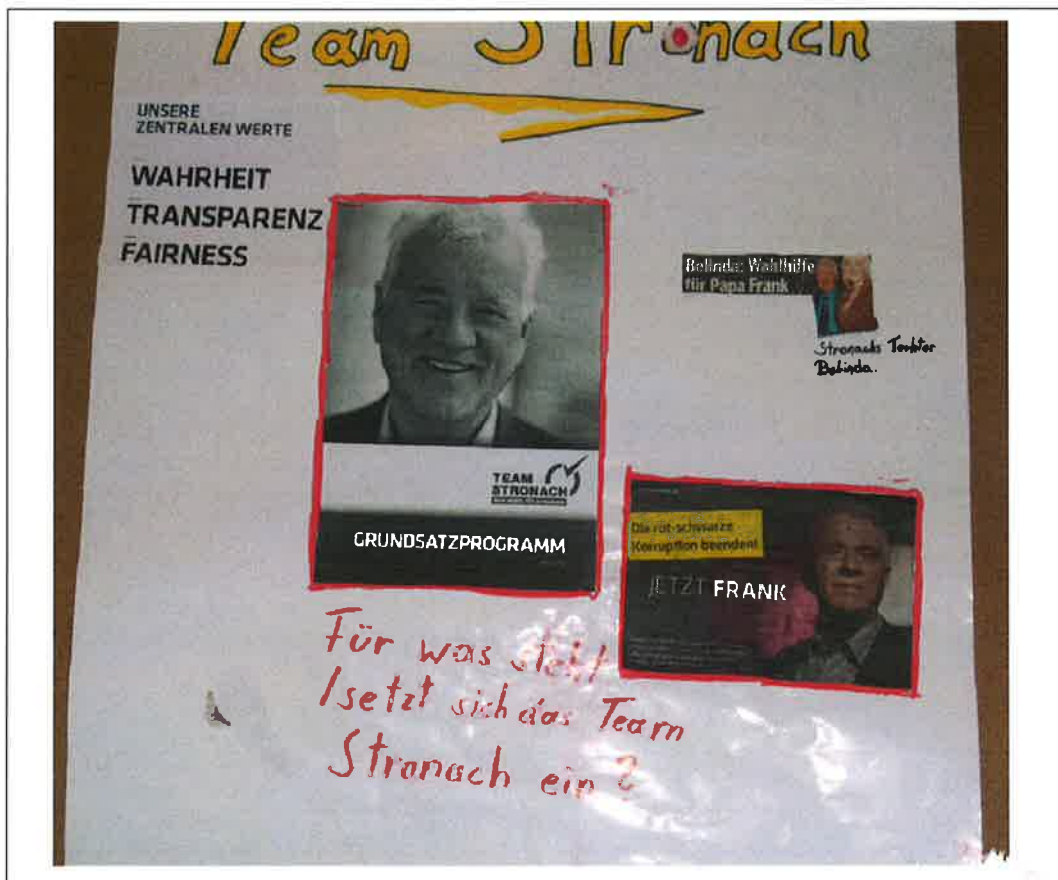


Wie viel Preise siehst du? 😊

Antwort: 2

wo ist der Rechteck ~~Rechteck~~? 😊

Antwort: Oben Aufzug im Brandfall nicht Benutzen!



Wie viele Rechtecke gibt es ???



Trapez, Kreis, halb Kreis, rechteck
Wie viele rechtecke kannst du sehen?
Welche Formen sind schonst eluend



Wie ^{viele} Zylinder sieht du?

